



# PREFEITURA MUNICIPAL DE Balsa Nova

Concurso Público – Edital nº 003/2011

Prova Objetiva – 18/12/2011



## 222 – Economista

### INSTRUÇÕES

1. Confira, abaixo, o seu número de inscrição, turma e nome. Assine no local indicado.
2. Aguarde autorização para abrir o caderno de prova. Antes de iniciar a resolução das questões, confira a numeração de todas as páginas.
3. A prova é composta de 40 questões objetivas.
4. Nesta prova, as questões objetivas são de múltipla escolha, com 5 alternativas cada uma, sempre na sequência **a, b, c, d, e**, das quais somente uma deve ser assinalada.
5. A interpretação das questões é parte do processo de avaliação, não sendo permitidas perguntas aos aplicadores de prova.
6. Ao receber o cartão-resposta, examine-o e verifique se o nome impresso nele corresponde ao seu. Caso haja qualquer irregularidade, comunique-a imediatamente ao aplicador de prova.
7. O cartão-resposta deverá ser preenchido com caneta esferográfica preta, tendo-se o cuidado de não ultrapassar o limite do espaço para cada marcação.
8. Não serão permitidos empréstimos, consultas e comunicação entre os candidatos, tampouco o uso de livros, apontamentos e equipamentos eletrônicos ou não, inclusive relógio. O não cumprimento dessas exigências implicará a eliminação do candidato.
9. Os aparelhos celulares deverão ser desligados e colocados OBRIGATORIAMENTE no saco plástico. Caso essa exigência seja descumprida, o candidato será excluído do concurso.
10. A duração da prova é de 4 horas. Esse tempo inclui a resolução das questões e a transcrição das respostas para o cartão-resposta.
11. Ao concluir a prova, permaneça em seu lugar e comunique ao aplicador de prova. Aguarde autorização para entregar o caderno de prova e o cartão-resposta.
12. Se desejar, anote as respostas no quadro abaixo, recorte na linha indicada e leve-o consigo.

Português

Conhecimento Específico

DURAÇÃO DESTA PROVA: 4 horas

NÚMERO DE INSCRIÇÃO	TURMA	NOME DO CANDIDATO
---------------------	-------	-------------------

ASSINATURA DO CANDIDATO
-------------------------

✂ .....

RESPOSTAS							
01 -	06 -	11 -	16 -	21 -	26 -	31 -	36 -
02 -	07 -	12 -	17 -	22 -	27 -	32 -	37 -
03 -	08 -	13 -	18 -	23 -	28 -	33 -	38 -
04 -	09 -	14 -	19 -	24 -	29 -	34 -	39 -
05 -	10 -	15 -	20 -	25 -	30 -	35 -	40 -



## PORTUGUÊS

O texto a seguir serve de base para as questões de 01 a 05.

### Dr. Google e seus bilhões de pacientes

Regina Elizabeth Bisaglia, em mais uma consulta de rotina, indicava ao paciente a melhor maneira de cuidar da pressão. Ao mesmo tempo, observava a expressão introspectiva do homem a sua frente. A cardiologista não entendia ao certo a desconfiança em seu olhar, mas começava a presumir o motivo. Logo, entenderia o porquê.

Depois de uma explicação um pouco mais técnica, o senhor abriu um sorriso e o olhar tornou-se mais afável. A médica acabara de falar o que o paciente queria ouvir e, por isso, passava a ser merecedora de sua confiança. "Entendi. O senhor andou consultando o doutor Google, certo?", disse, de modo espirituoso, Bisaglia.

A médica atesta: muitas vezes os pacientes chegam ao consultório com o diagnóstico já pronto e buscam apenas uma confirmação. Ou mais: vão ao médico dispostos a testar e aprovar (ou não) o especialista.

"Não adianta os médicos reclamarem. Os pacientes vão à Internet pesquisar e isso é um caminho sem volta. Informação errada existe em todos os meios, mas eu diria que muitas vezes é interessante que a pessoa procure se informar melhor", diz a cardiologista, com mais de 30 anos de profissão.

Não é de hoje que a questão do 'doutor Google' e do 'paciente expert' é debatida. Mas se antes a maioria dos argumentos pedia a favor dos médicos e contra a pesquisa dos leigos na área – sob o medo compreensível da automedicação ou da má informação –, agora o viés da conversa caminha para um olhar mais relativista. Estudos sobre o assunto já propõem, inclusive, que os médicos tenham na sua formação uma espécie de aula especial para lidar com os pacientes internautas.

Hoje, a Internet propicia a formação de grupos sobre várias doenças: salas de discussão, fóruns e páginas sobre as mais diversas patologias. Um dos sites mais conhecidos é o *Patients like me* (Pacientes como eu, em português), uma rede social com quase 50 mil pessoas que reúne pacientes com os mais diversos problemas. O objetivo, como a maioria dos grupos, é o de trocar informação sobre doenças e, também, encontrar alento e apoio naqueles que partilham o mesmo sofrimento. Às vezes, o paciente descobre que tem a doença em uma pesquisa na Internet e, assim, vai ao médico.

A grande maioria dos especialistas, como era de se esperar, dá o mesmo conselho para o paciente na hora de pesquisar e se juntar a grupos na Internet: seja responsável, busque as melhores referências e procure saber quem está dando a informação. E ainda: lembre-se de que nem sempre o que se deseja ler/ouvir é o diagnóstico correto.

Como diz, com certo humor, a cardiologista Regina Elizabeth Bisaglia, a primeira busca na Internet pode ser a mais simplória: "A pesquisa mais importante na rede é o nome de um bom médico para se consultar".

(CARMELO, Thiago. *Ciência Hoje On-line*, 02/02/2011. Acesso em 30/11/2011. Adaptado.)

**01 - Considerando as informações do texto, assinale a alternativa que corresponde ao ponto de vista de Regina Bisaglia sobre as 'consultas' dos pacientes na Internet.**

- a) A cardiologista desaconselha essas buscas de informação, devido aos riscos da automedicação e de diagnósticos errados.
- b) Segundo Bisaglia, o conhecimento do leigo sobre suas próprias doenças reduz a responsabilidade do médico no diagnóstico e no encaminhamento dos tratamentos.
- c) Para Bisaglia, as informações sobre doenças na Internet deveriam ser de acesso restrito aos profissionais da área.
- ▶ d) Bisaglia reconhece que a Internet publica informações equivocadas, mas considera a busca de conhecimentos pelos pacientes um processo irreversível e positivo.
- e) Bisaglia recomenda apenas um tipo de busca sobre doenças na Internet: as indicações de médicos a serem consultados.

**02 - O caso relatado no início do texto mostra que os pacientes que buscam informações sobre suas doenças na Internet:**

- a) fazem as buscas por curiosidade, sem levá-las a sério quando se trata da própria saúde.
- ▶ b) tendem a acreditar no médico apenas quando ele confirma as informações encontradas na Internet.
- c) são hipocondríacos e acreditam estar mais doentes do que estão realmente.
- d) questionam o diagnóstico feito pelos médicos e não aderem ao tratamento.
- e) têm uma atitude de desconfiança em relação às informações veiculadas nas redes sociais.

**03 - "Não é de hoje que a questão do 'doutor Google' e do 'paciente expert' é debatida" (início do 5º parágrafo). Com essa afirmação, o autor mostra que não é recente a discussão sobre:**

- a) um site da Internet especializado em doenças e o comportamento dos internautas que acessam esse site.
- b) uma rede social em que o Dr. Google fornece informações sobre doenças diversas e as atitudes dos participantes dessa rede.
- ▶ c) a busca de informações sobre doenças em programas de busca da Internet e o acesso dos pacientes a informações sobre as doenças.
- d) a interação entre os médicos e seus pacientes pela Internet e a desinformação dos pacientes.
- e) a democratização do saber médico e o desinteresse das pessoas em ter informações sobre sua própria saúde.

**04 - No trecho "começava a presumir o motivo" (3ª linha), o sentido do verbo grifado equivale a:**

- ▶ a) suspeitar.
- b) confirmar.
- c) interrogar.
- d) revelar.
- e) referendar.

**05 - A grande maioria dos especialistas, como era de se esperar, dá o mesmo conselho para o paciente na hora de pesquisar e se juntar a grupos na Internet: seja responsável, busque as melhores referências e procure saber quem está dando a informação.**

**Se as expressões grifadas na frase acima forem substituídas, respectivamente, por os especialistas e os pacientes, deverão ser feitas modificações para ajustar a concordância segundo as normas da escrita. Sendo assim, assinale a alternativa correta em relação à concordância no caso da substituição proposta.**

- a) Os especialistas, como era de se esperar, dá o mesmo conselho para os pacientes na hora de pesquisar e se juntar a grupos na Internet: seja responsável, busque as melhores referências e procure saber quem está dando a informação.
- b) Os especialistas, como era de se esperar, dão o mesmo conselho para os pacientes na hora de pesquisar e se juntar a grupos na Internet: sejam responsáveis, busquem as melhores referências e procurem saber quem está dando a informação.
- ▶ c) Os especialistas, como era de se esperar, dão o mesmo conselho para os pacientes na hora de pesquisarem e se juntarem a grupos na Internet: sejam responsáveis, busquem as melhores referências e procurem saber quem está dando a informação.
- d) Os especialistas, como era de se esperar, dão o mesmo conselho para os pacientes na hora de pesquisar e se juntar a grupos na Internet: sejam responsáveis, busquem as melhores referências e procure saber quem está dando a informação.
- e) Os especialistas, como era de se esperar, dão o mesmo conselho para os pacientes na hora de pesquisarem e se juntar a grupos na Internet: seja responsável, busque as melhores referências e procure saber quem está dando a informação.

**O texto a seguir serve de base para as questões 06 a 10.**

O novo estádio do Corinthians, em São Paulo, em tese destinado à abertura da Copa do Mundo de 2014, é por enquanto um rasgo de imaginação sobre um terreno baldio, mas já tem nome de guerra. O leitor adivinha qual é? Ai vai uma pista: o local escolhido é o bairro de Itaquera. Agora ficou fácil. O nome é Itaquirão, claro. Antes, os estádios precisavam ao menos ser construídos para receber o enobrecimento do "ão" na última sílaba do apelido. Não mais. Não se sabe sequer quem vai pagar a conta do estádio, ou suposto estádio, do Corinthians, nem existe projeto definido. Mas o nome já lhe foi pespegado. O uso do aumentativo para designar estádios de futebol começou com a inauguração, em 1965, do Mineirão, em Belo Horizonte – oficialmente, Estádio Magalhães Pinto – mas desde o primeiro momento, e para sempre, Mineirão. Fazia sentido. [...] Dali em diante, a moda pegou e a febre de construção de estádios que assolou o país, a partir do "milagre brasileiro" (não o do Lula, mas o do Médici), espalhou ãos pelo país afora. [...] No entanto, o inho é que melhor caracterizaria o brasileiro. Sérgio Buarque de Holanda escreveu, no clássico *Raízes do Brasil* (um pouco de erudição faz bem, especialmente ao amor, que se convence de estar falando coisa séria): "A terminação inho, aposta às palavras, serve para nos familiarizar mais com as pessoas ou os objetos e, ao mesmo tempo, para lhes dar relevo. É a maneira de fazê-los mais acessíveis aos sentidos e também de aproximá-los do coração". A passagem está no famoso capítulo do "homem cordial", isto é, o homem regido pelo coração, que seria o brasileiro. Somos o país do Joãozinho, do amorzinho e da "Dilminha" (como a trata a mãe da presidente, ela também chamada Dilma). Somos a terra do jeitinho, do favorzinho e do probleminha, invocados sobretudo quando o jeito é complicado, o favor é grande e o problema insolúvel. Por esse caminho, para melhor se aninhar no coração dos brasileiros, o Mineirão deveria ser Mineirinho, o Castelão, Castelinho e o Batistão, Batistinha. Ocorre que estádios pertencem a outra esfera. Não pedem carinho, pois não foram feitos para cativar, mas para impressionar. Cumprem no Brasil o que há de mais próximo ao papel das catedrais e das pirâmides, em outras épocas e lugares.

(adaptado de O fascínio do ão, R. Pompeu de Toledo, *Veja on line*, 05/03/2011.)

**06 - Segundo o texto, é correto afirmar:**

- a) O autor usa aumentativos e diminutivos no texto porque ele é escrito em linguagem informal.
- b) O uso de aumentativos para designar estádios é recomendação de um decreto de 1965, período da ditadura militar.
- c) O estádio que está sendo construído no bairro de Itaquera, em São Paulo, é, supostamente, do Corinthians.
- d) A afirmação de que o estádio em construção já tem um nome de guerra se deve à rivalidade entre as torcidas.
- ▶ e) Para o autor, usar 'ão' na última sílaba do apelido de um estádio pode ser interpretado como um indício de reverência.

**07 - Os termos grifados das expressões 'um rasgo de imaginação' e 'já lhe foi pespegado' podem ser substituídos no texto, respectivamente, sem prejuízo de significado, por:**

- ▶ a) arroubo – aplicado.
- b) rompimento – atribuído.
- c) lampejo – notificado.
- d) vigor – impingido.
- e) fenda – declarado.

**\*\*08 - Assinale a alternativa que melhor expressa a opinião do autor do texto:**

- a) Os estádios de futebol deveriam ser designados por diminutivos, pois, como bem argumentou Sérgio Buarque de Holanda, os diminutivos os tornam mais próximos do coração dos brasileiros.
- ▶ b) Os estádios de futebol devem ter a terminação 'ão', porque essa designação reflete a imponência e o tamanho descomunal deles.
- c) Os estádios não são feitos para cativar torcedores e por isso quem os denomina não está preocupado em utilizar uma designação que sensibilize o coração dos espectadores.
- d) Faz sentido que os apelidos dos estádios recebam mais comumente a terminação 'ão' e não 'inho', porque eles são criados mais para impressionar do que para agradar.
- e) O autor julga um contrassenso a designação dos estádios de futebol ser feita através de diminutivos, ainda que isso os aproximasse mais do coração dos torcedores.

\*\*

-

Questão

com

resposta

alterada.

**09 - Assinale a alternativa cuja interpretação capta melhor a comparação do autor entre os atuais estádios de futebol e as catedrais e pirâmides de antigamente.**

- a) Os estádios, como as catedrais e pirâmides, são lugares sagrados.
- ▶ b) A comparação se deve ao caráter monumental dessas edificações.
- c) Os estádios, como as catedrais e pirâmides, têm seguidores fanáticos.
- d) O papel das catedrais, pirâmides e estádios é provocar a paixão dos acólitos.
- e) Nenhuma das três construções é de uso privado.

**10 - Considere as seguintes afirmativas:**

1. O autor do texto não confia que o estádio em construção servirá para a abertura da Copa de 2014.
2. O estádio em construção em São Paulo não é, de fato, do time do Corinthians.
3. Só a mãe da presidente pode chamá-la pelo diminutivo, apesar de sermos o país do 'Joãozinho', do 'amorzinho' e do 'probleminha'.
4. A expressão "homem cordial" está relacionada ao comportamento determinado pelo coração.

**Assinale a alternativa correta.**

- a) Somente as afirmativas 1, 3 e 4 são verdadeiras.
- b) Somente as afirmativas 2, 3 e 4 são verdadeiras.
- c) Somente as afirmativas 2 e 4 são verdadeiras.
- d) Somente as afirmativas 1, 2 e 3 são verdadeiras.
- ▶ e) Somente as afirmativas 1 e 4 são verdadeiras.

## CONHECIMENTO ESPECÍFICO

**11 - Em função da sazonalidade na oferta de mamão, o preço de uma unidade nas gôndolas dos supermercados de certa cidade subiu de R\$ 1,00 para R\$ 2,50. Os supermercados notaram que as vendas caíram de 6 mil para 4,5 mil unidades. Qual a elasticidade-preço da demanda por mamão?**

- a) 1,5.
- b) -1.
- c) -1,5.
- ▶ d) -1,66.
- e) -2.

**12 - Num mercado em monopsonio, espera-se que:**

- a) a curva de oferta do monopsonista seja igual à sua curva de receitas médias.
- ▶ b) a produção dos insumos seja menor do que a de um mercado comprador competitivo.
- c) o monopsonista se beneficie com a mudança de seu mercado fornecedor de uma estrutura competitiva para uma estrutura cartelizada.
- d) o preço no mercado de insumos ao monopsonista seja maior do que seria num mercado comprador competitivo.
- e) o poder do monopsonista cresça em proporção direta à elasticidade da oferta do bem comprado.

**13 - Num mercado com informação assimétrica, espera-se que:**

1. os compradores sejam levados a utilizar recursos para investigar o produto e o vendedor, uma prática conhecida por *screening*.
2. os vendedores de produtos de melhor qualidade sejam levados a utilizar recursos para investigar a reputação do comprador, uma prática conhecida por *signaling*.
3. a concorrência expulsa vendedores que se beneficiem de informação privilegiada.
4. produtos de menor qualidade continuem no mercado sem diferencial significativo de preços para com produtos de maior qualidade.

**Estão corretos os itens:**

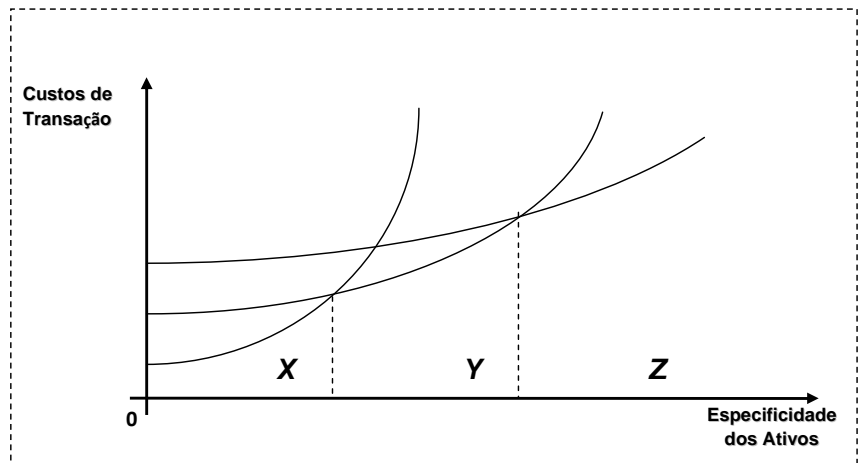
- a) 1 e 2 apenas.
- b) 2, 3 e 4 apenas.
- ▶ c) 1 e 4 apenas.
- d) 1, 2 e 3 apenas.
- e) 1, 2, 3 e 4.

**14 - Para a economia comportamental, o fenômeno em que indivíduos manifestam uma desutilidade bem maior em se desfazer de um objeto do que uma correspondente utilidade em adquiri-lo é conceituado como:**

- ▶ a) aversão a perdas.
- b) desutilidade marginal decrescente.
- c) procrastinação.
- d) viés do *status quo*.
- e) preferência por liquidez.

15 - De acordo com a abordagem dos custos de transação, a relação esperada entre especificidade dos ativos envolvidos numa transação econômica e os respectivos custos de transação envolvidos em gerir a mesma com diferentes mecanismos de governança está representada no gráfico ao lado. Na mesma perspectiva, qual seria o mecanismo de governança mais apropriado para os mais elevados graus de especificidade de ativos?

- X (o mercado).
- Y (o mercado).
- Y (a terceirização via contrato de longo prazo).
- Z (a terceirização via contrato de longo prazo).
- e) Z (a internalização da transação de forma hierárquica).



16 - A partir de evidências empíricas, economistas comportamentais identificaram que muitas pessoas sistematicamente superestimam as probabilidades de ocorrência de certos eventos a partir de poucos eventos muito recentes. Considere as seguintes situações:

1. Reter um bem pelo qual se pagou R\$ 20 ontem quando hoje lhe oferecem R\$ 30 por ele.
2. Cancelar uma viagem de avião logo após um acidente aéreo.
3. Antecipar a venda de um produto ao observar duas ou três quedas seguidas do preço.
4. Estudar com antecedência para uma prova ao saber que outras provas ocorrerão à mesma época.

Dessas situações, são exemplos do viés comportamental citado:

- a) 1 e 2 apenas.
- b) 1 e 3 apenas.
- c) 1 e 4 apenas.
- d) 2 e 3 apenas.
- e) 3 e 4 apenas.

17 - Espera-se que os mercados de energias “limpas” ou menos poluentes ganhem espaço nas próximas décadas, mas a lucratividade de uma empresa na área pode depender da tecnologia escolhida. O quadro abaixo ilustra essa situação, com duas empresas participantes (A e B) e duas fontes de energia “limpa”, na forma de um jogo econômico.

		Empresa A	
		Eólica	Solar
Empresa B	Eólica	<b>Caixa 1</b> \$100 bilhões para “A” \$100 bilhões para “B”	<b>Caixa 2</b> \$200 bilhões para “A” \$150 bilhões para “B”
	Solar	<b>Caixa 3</b> \$150 bilhões para “A” \$200 bilhões para “B”	<b>Caixa 4</b> \$100 bilhões para “A” \$100 bilhões para “B”

Se as empresas tentam maximizar lucros, qual caixa (ou combinação delas) representa um resultado estável para a indústria se a Empresa B faz o primeiro movimento?

- a) Caixa 1.
- b) Caixa 2.
- c) Caixa 3.
- d) Caixas 1 e 4.
- e) Caixas 2 e 3.

**18 - Sobre a política monetária moderna utilizada em boa parte dos países e seus instrumentos, é correto afirmar:**

- a) Assume-se que o banco central é incapaz de determinar a taxa de juros de curto prazo.
- ▶ b) Ela ajusta a taxa de juros considerando a diferença entre a inflação corrente e a desejada, conforme sugerido pelo economista sueco Knut Wicksell, no começo do século 20.
- c) Ela se pauta pela adoção de metas para o crescimento da dívida pública, conforme preconizado pelo economista estadunidense Robert Solow, na década de 1960.
- d) O estabelecimento de metas inflacionárias se origina na consideração do mercado de reservas bancárias como rígido e pouco responsivo às operações de colocação de títulos públicos com acordo de recompra.
- e) O banco central, ao atuar como emprestador de última instância, deteriora expectativas da taxa de juros tanto no curto quanto no longo prazo.

**19 - A Curva de Lafer representa uma possível relação entre o total da arrecadação tributária e as alíquotas de impostos. Sobre ela, é correto afirmar:**

- ▶ a) Um aumento na alíquota de um imposto eleva a arrecadação tributária até um ponto máximo, a partir do qual a arrecadação se reduz em função do aumento da evasão e do desestímulo à atividade sobre a qual incide o imposto.
- b) Em toda a extensão da curva, um aumento na alíquota de um imposto eleva a arrecadação tributária.
- c) Um aumento na alíquota de um imposto eleva a arrecadação tributária até o chamado limite de Lafer, a partir do qual a arrecadação se estabiliza independentemente de novos aumentos de alíquota.
- d) Impostos progressivos, que incidem de forma mais que proporcional ao aumento da renda, elevam a arrecadação tributária em momentos de baixo crescimento econômico.
- e) A estabilidade das alíquotas em períodos de alta inflação leva ao chamado imposto inflacionário.

**20 - Considere um aumento das compras do governo (uma variação no gasto autônomo) e que há um multiplicador da renda em operação na presença de imposto sobre a renda. Havendo uma propensão a consumir  $c = 0,70$  e uma alíquota de imposto de renda  $t = 0,25$ , então um aumento de R\$ 10,00 nos gastos do governo aumenta a renda em:**

- a) R\$ 5,00.
- b) R\$ 12,75.
- c) R\$ 14,50.
- d) R\$ 17,25.
- ▶ e) R\$ 21,05.

**21 - A legislação brasileira permite diversas formas de licitação, EXCETO:**

- ▶ a) apontamento.
- b) concorrência.
- c) concurso.
- d) leilão.
- e) pregão presencial.

**22 - Com base no Estatuto da Cidade (Lei 10.257/01), em seu artigo 4º, identifique como verdadeiros (V) ou falsos (F) os seguintes instrumentos de planejamento municipal:**

- ( ) Gestão orçamentária participativa.
- ( ) Planos de desenvolvimento econômico e social.
- ( ) Zoneamento ambiental.

**Assinale a alternativa que apresenta a sequência correta, de cima para baixo.**

- a) V – F – V.
- ▶ b) V – V – V.
- c) F – F – V.
- d) F – V – F.
- e) V – V – F.

**23 - O Estatuto da Cidade (Lei 10.257/01), em seu artigo 32, define como “operação urbana consorciada o conjunto de intervenções e medidas coordenadas pelo Poder Público municipal, com a participação dos proprietários, moradores, usuários permanentes e investidores privados, com o objetivo de alcançar em uma área transformações urbanísticas estruturais, melhorias sociais e a valorização ambiental”. No artigo 33, a citada lei dispõe que tais operações podem prever “contrapartida a ser exigida dos proprietários, usuários permanentes e investidores privados”. Os recursos obtidos pelo Poder Público municipal com tal contrapartida, por força da mesma lei citada, devem ser aplicados exclusivamente:**

- a) em projetos sociais.
- b) em melhorias de infraestrutura do município.
- c) no abatimento da dívida municipal, se for o caso, ou em fundo específico para provisão de garantias financeiras.
- ▶ d) na própria operação urbana consorciada.
- e) em áreas prioritárias definidas no Plano Diretor do município.



**24 - O artigo 40 do Estatuto da Cidade (Lei 10.257/01) estabelece o plano diretor como “instrumento básico da política de desenvolvimento e expansão urbana”. Com relação à sua elaboração, fiscalização e implementação, cabe aos Poderes Legislativo e Executivo municipais garantir:**

1. a promoção de audiências públicas e debates com a participação da população e de associações representativas dos vários segmentos da comunidade.
2. a publicidade quanto aos documentos e informações produzidos.
3. o acesso de qualquer interessado aos documentos e informações produzidos.

**Assinale a alternativa correta.**

- a) Somente o item 1 é verdadeiro.
- b) Somente o item 3 é verdadeiro.
- c) Somente os itens 1 e 2 são verdadeiros.
- d) Somente os itens 2 e 3 são verdadeiros.
- ▶ e) Os itens 1, 2 e 3 são verdadeiros.

**25 - Considere a lista abaixo:**

1. Déficit nominal ou necessidades de financiamento líquido do setor público não financeiro.
2. Déficit primário ou fiscal.
3. Déficit operacional.
4. Déficit de caixa.

**São conceitos amplamente reconhecidos de déficit público:**

- a) 1 e 2 apenas.
- b) 1, 2 e 3 apenas.
- c) 3 e 4 apenas.
- d) 2, 3 e 4 apenas.
- ▶ e) 1, 2, 3 e 4.

**26 - Assinale a alternativa que apresenta o modo como pode ser expresso o princípio de tributação baseado na capacidade de pagamento.**

- a) Os indivíduos são tributados de forma progressiva de acordo com o aumento dos custos de manutenção do serviço público em questão.
- b) Indivíduos com mesma capacidade de pagamento devem ser tributados de acordo com a intensidade do uso dos serviços públicos.
- ▶ c) Indivíduos com mesma capacidade de pagamento são tributados na mesma proporção.
- d) Os indivíduos são tributados de acordo com a facilidade de acesso aos serviços públicos.
- e) Indivíduos com capacidades distintas de pagamento não devem ser tributados.

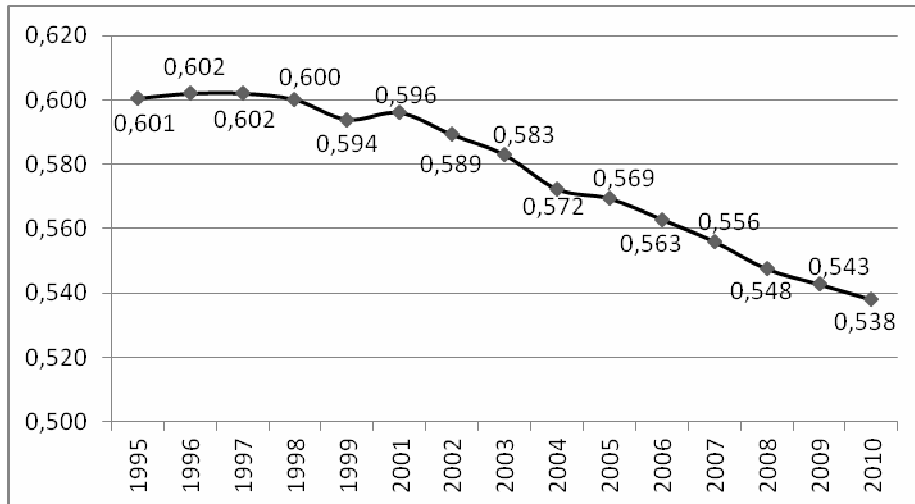
**27 - O Orçamento Geral da União (OGU) é parte central do planejamento financeiro do Estado. Caracteriza o OGU:**

- a) servir de base para a elaboração da Lei de Diretrizes Orçamentárias, que especifica detalhes da execução do OGU.
- b) determinar as metas de inflação, sinalizando a trajetória anual da Taxa de Juros de Longo Prazo.
- c) firmar os limites da rolagem das dívidas do setor público federal, estadual e municipal, bem como das empresas estatais e autarquias.
- ▶ d) ser elaborado por iniciativa do Poder Executivo.
- e) ser elaborado por iniciativa do Poder Legislativo.

**28 - Convencionou-se identificar na década de 1950 as origens da moderna literatura da economia do crescimento e do desenvolvimento. Sobre ela, é correto afirmar:**

- a) Autores como Gunnar Myrdal e Ignácio Rangel identificaram o desenvolvimento econômico como derivado da alocação eficiente dos recursos produtivos, diferindo entre os países no que se refere à disponibilidade quantitativa e qualitativa de recursos produtivos.
- ▶ b) Autores pioneiros, como Alexander Gerschenkron e Celso Furtado, afirmavam que os caminhos do desenvolvimento econômico podem ser diversos, pois são delineados no processo histórico de cada país, a depender de como constituem as instituições que promovem mudança estrutural e melhoria generalizada nos padrões de vida.
- c) Autores como Raul Prebisch e Osvaldo Sunkel notaram que países subdesenvolvidos tendem a se beneficiar com a ampliação do comércio com os países avançados na medida em que poderão obter vantagens comparativas no comércio graças ao nivelamento natural dos termos de troca.
- d) Desenvolvimento econômico era definido como crescimento da renda per capita.
- e) Autores como Joseph Schumpeter e W. W. Rostow defenderam a ideia de que o desenvolvimento se dá num círculo virtuoso e cumulativo, em etapas progressivas e ininterruptas de melhoria e que são idênticas em todos os países. À medida que ocorre maior integração internacional, a estrutura produtiva e de consumo dos países atrasados converge com as dos países avançados.

29 - O gráfico abaixo, elaborado a partir do IPEADData, mostra a evolução do Coeficiente de Gini (eixo vertical) para o Brasil de 1995 a 2010.



Fonte: IPEADData.

Com base nesses dados, é correto afirmar:

- a) Houve redução no prêmio de juros pagos aos investidores estrangeiros.
- b) Houve uma queda da participação da dívida externa no total da dívida do Tesouro Nacional.
- ▶ c) Houve uma queda de desigualdade na distribuição de renda.
- d) Houve redução da relação Dívida do Estado/PIB.
- e) Com o aumento concomitante da escolaridade, vê-se uma redução nas desigualdades educacionais.

30 - O Quociente Locacional (QL) é um indicador utilizado nas análises das economias regionais e urbanas. Sobre ele, é correto afirmar:

- ▶ a) Valores de QL superiores à unidade indicam setores mais importantes de uma região, identificando possibilidades de exportação para seu exterior.
- b) Valores de QL inferiores à unidade indicam setores com maior número de empregos na região determinada, identificando seu potencial de elevação da massa salarial local.
- c) Valores de QL iguais à unidade indicam o maior grau possível de integração à economia das regiões vizinhas.
- d) É usado para comparar a participação percentual de uma região J qualquer em um setor I com o total produzido pelo setor I no país em questão.
- e) É usado para comparar a participação percentual de uma região I qualquer no total produzido por uma outra região J que a englobe.

31 - No estudo das economias regionais, o método *shift-share* ajuda na descrição do crescimento econômico de uma região ao subdividir sua variação em estrutural e diferencial. Esta última pode ser definida como:

- a) o montante (positivo ou negativo) de crescimento que a região J poderá obter como resultante de sua composição estrutural.
- ▶ b) o montante (positivo ou negativo) de crescimento que a região J conseguirá porque a taxa de crescimento de certo setor nessa região é maior ou menor do que a média nacional.
- c) o montante (positivo ou negativo) de crescimento que a região J conseguirá em função das compensações recebidas do seu exterior, como por exemplo os repasses dos Fundos Constitucionais.
- d) o montante (positivo ou negativo) de crescimento que a região J poderá obter como resultante da diferença nas razões dos Quocientes Locacionais com relação às regiões com as quais a região J tem maior intensidade de comércio.
- e) o montante (positivo ou negativo) de crescimento que a região J obtém na margem, ou seja, quando os retornos dos seus fatores de produção deixam de ser crescentes.

32 - Na análise das economias regionais, o uso de matrizes insumo-produto permite estimar os impactos gerados pelas variações de um setor em direção a toda a estrutura produtiva de certa região, auxiliando em decisões de políticas públicas. Acerca disso, considere os seguintes indicadores:

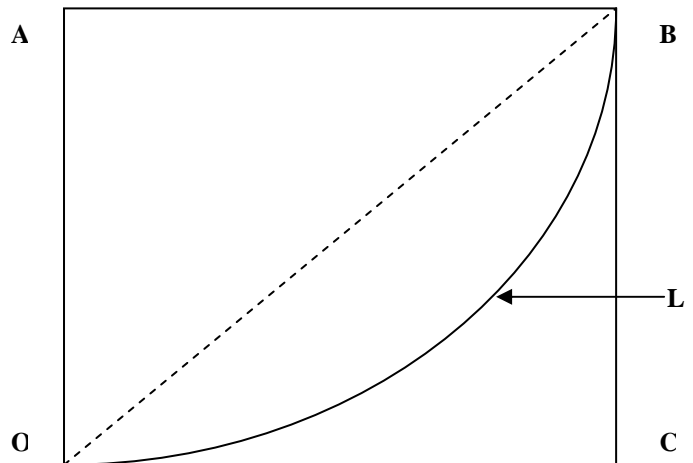
1. Índice de poder de dispersão.
2. Índice de sensibilidade de dispersão.
3. Índice de Theil.
4. Índice de *shift-share*.

São apropriados para a análise mencionada acima os itens:

- a) 1, 2 e 3 apenas.
- b) 2, 3 e 4 apenas.
- c) 3 e 4 apenas.
- d) 1 e 3 apenas.
- ▶ e) 1 e 2 apenas.

33 - O diagrama ao lado mostra a chamada Curva de Lorenz. A partir dela se pode construir o Coeficiente de Gini. A respeito desses dois conceitos, considere as seguintes afirmativas:

1. Quanto mais distante da linha pontilhada OB estiver a Curva de Lorenz C, menos concentrada será a distribuição da variável em questão.
2. Obtém-se o Coeficiente de Gini com a razão entre a área OLB e o triângulo OCB.
3. Obtém-se o Coeficiente de Gini com a derivada da curva L no ponto de menor distância com relação a C.
4. Obtém-se a Curva de Lorenz a partir da representação cumulativa da participação demonstrada no eixo OA na totalidade da variável demonstrada no eixo OC.



Assinale a alternativa correta.

- a) Somente as afirmativas 1 e 2 são verdadeiras.
  - ▶ b) Somente as afirmativas 2 e 4 são verdadeiras.
  - c) Somente as afirmativas 3 e 4 são verdadeiras.
  - d) Somente as afirmativas 1, 2 e 4 são verdadeiras.
  - e) Somente as afirmativas 1, 3 e 4 são verdadeiras.
- 34 - A população de certo município é distribuída entre 60% de mulheres e 40% de homens. A idade média (média aritmética das idades) da população feminina é de 35 anos e a da masculina é de 40 anos. Qual a idade média da população?
- ▶ a) 37 anos.
  - b) 37,2 anos.
  - c) 37,5 anos.
  - d) 37,8 anos.
  - e) 38 anos.
- 35 - João recebeu, ao longo de um ano, o salário fixo mensal de R\$ 3 mil. No município em que trabalha e reside, houve, no período, uma inflação de 9%. Maria trabalha e reside em outro município e recebeu o mesmo salário. Em seu município, porém, a inflação no período foi de 4,5%. Considerando tudo o mais constante, o salário real de João corresponde a que percentual do salário real de Maria no fim do período considerado (ignore os centavos em seus cálculos)?
- a) 91%.
  - b) 95,2%.
  - ▶ c) 95,8%.
  - d) 96,5%.
  - e) 104,2%.
- 36 - Entre os testes de avaliação de parâmetros estimados numa regressão econométrica ( $Y = \alpha + \beta_1 X_1 + \beta_2 X_2 + \dots + \epsilon$ ), está o chamado teste "t" de Student. Esse teste é:
- a) uma medida da heteroscedasticidade dos resíduos  $\epsilon_i$ .
  - b) uma medida da significância estatística de  $R^2$ , ou da influência conjunta das variáveis explicativas sobre Y, testando a hipótese nula de que  $\beta_1 = \beta_2 = \dots = \beta_k = 0$ .
  - c) uma medida da autocorrelação entre os resíduos  $\epsilon_i$ .
  - ▶ d) uma medida da significância estatística individual de cada coeficiente estimado na regressão, inclusive a constante, testando as hipóteses nulas  $\alpha = 0$  e  $\beta = 0$  em separado.
  - e) uma medida de determinação de raízes unitárias de grau 1.
- 37 - O modelo CAPM (*Capital Asset Pricing Model*) provê uma medida de risco não diversificável de um determinado ativo, denominada coeficiente beta. Um ativo é considerado agressivo quando o valor de seu coeficiente é:
- a) igual a zero.
  - b) inferior a zero.
  - c) igual a um.
  - ▶ d) maior que um.
  - e) entre zero e um.

**38 - Há dois grandes grupos de métodos utilizados na análise de investimentos: os métodos determinísticos e os métodos não determinísticos. Fazem parte do grupo de métodos determinísticos:**

1. Método do Valor Anual Uniforme (VAUE).
2. Método do Valor Presente Líquido (VPL).
3. Método da Taxa Interna de Retorno (TIR).
4. Método de Tempo de Recuperação do Capital Investido (Pay-back Time).

**Estão corretos os itens:**

- a) 1 e 2 apenas.
- b) 3 e 4 apenas.
- c) 1, 2 e 3 apenas.
- d) 1 e 4 apenas.
- ▶e) 1, 2, 3 e 4.

**39 - O sistema francês de amortização é caracterizado por:**

- ▶a) apresentar prestações com valores iguais.
- b) apresentar prestações com valores crescentes.
- c) usar o regime de juros simples.
- d) apresentar parcelas compostas por juros, com o principal da dívida sendo liquidado ao final do empréstimo.
- e) permitir as menores taxas de juros se comparadas às determinadas em outros sistemas.

**40 - A Taxa Interna de Retorno (TIR), é a taxa para a qual:**

- a) o valor presente líquido do fluxo de caixa é positivo.
- b) o valor presente líquido do fluxo de caixa é negativo.
- ▶c) o valor presente líquido do fluxo de caixa é nulo.
- d) o fluxo de caixa ao fim do investimento é zerado.
- e) as receitas marginais da firma se iguala aos seus custos marginais.